

三水同鄉會禰景榮學校
音樂科六年級樂理工作紙（考試溫習）


姓名：_____（ ）


成績：_____ / 30

班別：_____

日期：_____

一、請在（ ）內填上音名。（4分）

(1) 
F () () E'

(2) 
B () ()

二、請把漏寫的唱名寫在（ ）內。（4分）



1. t. () () m m () m f () m

三、請在（ ）內填上正確的 I 或 V 和弦名稱。（2分）

(1) 

| |
|----------|
| <i>s</i> |
| <i>m</i> |
| <i>d</i> |

（ ）和弦

(2) 

| |
|----------|
| <i>r</i> |
| <i>f</i> |
| <i>s</i> |

（ ）和弦

四、請在五線譜上寫上 C 大調 和 G 大調的 I、V 和弦。（4分）

C 大調




I V

G 大調




I V

五、請用 ○ 在五線譜上寫出 C 大調上行音階，並在 _____ 上寫上音名。(4 分)



六、請用 ○ 在五線譜上寫出 G 大調上行音階，並在 _____ 上寫上音名。(4 分)



七、請分辨調號及在線上 _____ 寫調名。(6 分)



_____ 大調



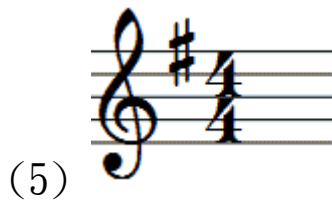
_____ 大調



_____ 大調



_____ 小調



_____ 小調



_____ 小調

八、請適當的位置寫上拍子記號。(2 分)

